

<範圍：第3課~第4課 >

【劃卡代號：53】

班級： 座號： 姓名：

※答案卡限用 2B 鉛筆劃記，答案請劃記明確；若有劃記錯誤，請擦拭乾淨。分數以電腦讀卡分數為準。

單選題(每題 4 分, 共 25 題; 總分 100 分)

1. 有四位朋友在聊天。請問: 下列哪一個人的談話中, 完全沒有提到自己的血親?

- (A)哈哈:「我的兄弟姊妹都喜歡移民到美國和加拿大, 只有我留在台灣」
- (B)雷雷:「我老婆和岳母都喜歡逛到百貨公司, 常常血拼一堆東西回來」
- (C)路路:「假日我都帶老婆孩子到溫泉俱樂部運動、休閒及養生」
- (D)亞亞:「我爸爸的家族是本地的大地主, 這附近的土地都是他們的」

2. 右圖是唐朝詩人王維的一首詩, 從詩面字義來看, 詩人表達的是對哪一親屬關係的思念之情?

九月九日憶山東兄弟  
唐(王維)

獨在異鄉為異客·  
每逢佳節倍思親·  
遙知兄弟登高處·  
遍插茱萸少一人。

- (A)直系血親(B)旁系血親
- (C)姻親關係(D)配偶關係

3. 下圖是陳老師在課堂上講解家庭時的內容。

依據《甲》法, 乙團體是由具有婚姻、血緣以及丙關係者所組成, 而其組成目的為丁。



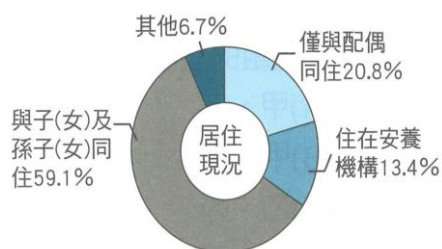
根據圖中判斷, 下列針對四個代號的敘述, 何者正確?

- (A)甲:《家庭教育法》 (B)乙:社會
- (C)丙:收養 (D)丁:從事公益

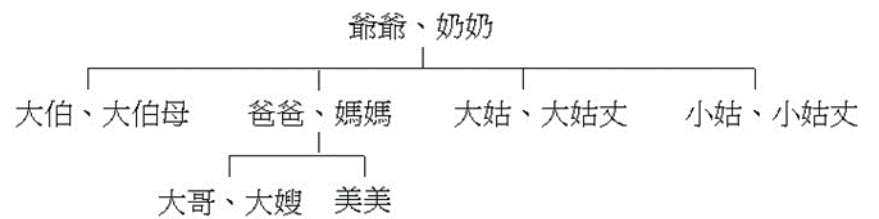
4. 政壇名人周常常一家人仍住在一間舊式公寓裡, 他在自傳《平凡人生》中提到, 兒子周雄雄是妻子趙小雲產下女兒周婷婷後, 一直未再懷孕, 經過十幾年, 才向鄉下一戶人家經法律程序, 收養當時 2 歲的周雄雄。根據上述內容, 下列敘述何者正確?

- (A)周常常和周雄雄具有自然血親的關係
- (B)周婷婷與周雄雄為直系血親關係
- (C)周雄雄與周常常是被認定彼此具有親屬關係
- (D)周常常一家四人共同組成的家庭, 稱為「重組家庭」

5. 右圖是某國調查 65 歲以上高齡者之居住現狀的部分資料。根據圖中內容判斷, 下列哪項敘述最符合目前該國老年人口的處境?



- (A)僅與配偶同住所占比例最低
- (B)住在安養機構是因家庭經濟功能式微
- (C)大多數家庭仍採三代同住的生活模式
- (D)委託祖父母照顧孫子女的隔代教養家庭增加



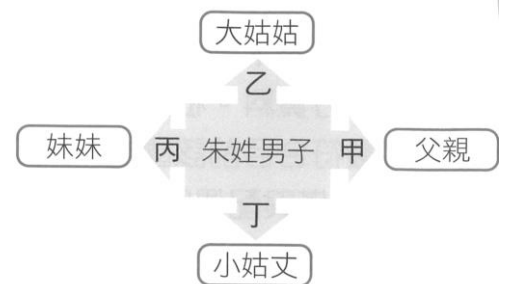
附表是美美的家族表。請問：

- 6. 下列哪兩人與美美都不是屬於姻親的關係?  
(A)爸爸和小姑丈 (B)大姑和大姑丈  
(C)媽媽和奶奶 (D)小姑和大伯母
- 7. 附表中, 哪兩個人是屬於妯娌的關係?  
(A)大伯和媽媽 (B)大姑和小姑  
(C)大伯母和媽媽 (D)媽媽和奶奶
- 8. 附表中, 哪兩個人是屬於連襟的關係?  
(A)大姑丈和小姑丈 (B)大姑丈和爸爸  
(C)小姑丈和爸爸 (D)大伯和大哥

新聞報導:「住在桃園的朱姓男子為慶祝自己 36 歲生日, 邀請父親、大姑姑、大姑丈、小姑姑、小姑丈、妹妹、妹婿等人到餐廳吃飯。慶生過程中大姑丈與小姑丈因為過去有金錢糾紛, 兩人發生口角並大打出手, 老闆見狀報警, 警察趕到, 將打架鬧事的兩人帶回警察局」

- 9. 上文中因有金錢糾紛而發生口角並大打出手的兩人彼此之間, 若依《民法》規定, 屬於下列何種親屬關係?  
(A)旁系血親 (B)血親的配偶 (C)配偶的血親  
(D)配偶的血親的配偶

10. 右圖是以朱姓男子為中心的四組親屬。哪兩組的親屬關係是完全相同?



- (A)甲、乙
- (B)甲、丁
- (C)乙、丙
- (D)乙、丁

11. 下列朱姓男子的親屬中, 何者與其他是屬於不同的親屬關係? (A)甲(B)乙(C)丙(D)丁

甲	小姑姑與小姑丈之間
乙	朱姓男子與妹婿之間
丙	大姑姑與小姑丈之間
丁	妹妹與大姑丈之間

12. 小名要寫公民報告,

右列是他引用內政部統計資料的部分內容。該內容最可以反映下列何種現象?

- (A) 適婚人口逐年降低
- (B) 家庭主要功能明顯降低

- (C) 婚姻觀念改變使家庭型態更多元
- (D) 人口流動促成兩地家庭比例增加

2017年離婚對數計54,439對,較2016年增加589對(+1.1%);其中以夫妻皆本國籍者占80.2%最高,與非本國籍聯姻者占19.8%,即每5對離婚者中就有1對夫妻一方為非本國籍。


13. 右圖是一張問題卡,關於圖中所提及的家庭類型,何者敘述最為適切?

- (A) 由一對夫妻及未成年子女組成
- (B) 情感與資源無法相互支援
- (C) 成員之間彼此都屬於血親關係
- (D) 又稱為聯合家庭,同住成員多

請問:這是什麼類型的家庭? 家庭成員有:

祖父母  
伯父及伯母+子女  
叔叔及嬸嬸+子女  
親生父母親+子女

14. 下列是一則漫畫,該漫畫主要在探討下列何種家庭型態所遇到的困擾?



- (A) 頂客家庭
- (B) 核心家庭
- (C) 折衷家庭
- (D) 血緣家庭

15. 基於家庭倫理及優生學的考量,我國《民法》規定具有近親關係的血親及姻親間不得結婚。根據上述內容判斷,下列何種組合若登記結婚,其婚姻最可能是有效的?

- (A) 英俊與姑姑的小孩
- (B) 大名與大嫂的妹妹
- (C) 愛美與哥哥的養子
- (D) 曉華與哥哥的養子

16. 右圖是小楷為家族旅行所規劃的房間分配情況。若小楷的房間兩旁,分別住了自己的直系血親與旁系血親,根據圖中內容判斷,他最可能是住在哪一個房間?

- (A) 甲
- (B) 乙
- (C) 丙
- (D) 丁



17. 宋朝陳亮《壬寅答朱元晦秘書》寫到:「富家之積蓄皆

盡矣,若今更不雨,恐巧婦做不得麵饅飀。」後亦作「巧婦難為無米之炊」,指巧媳婦沒米也做不出飯來。上述說明家庭何種功能的重要?

- (A) 生育
- (B) 教育
- (C) 經濟
- (D) 保護與照顧

18. 臺北市民只要是父或母其中一方設籍在臺北市1年以上,新生兒出生後60天內,在臺北市辦理出生登記的同時,就可以在戶政事務所申請每胎2萬元的獎勵金呢!」上述獎勵措施主要是希望鼓勵民眾發揮何種家庭功能?

- (A) 生育
- (B) 經濟
- (C) 教育
- (D) 保護與照顧

19. 下圖是小柏與父親的爭吵

請問:小柏是否可以據此向有關單位聲請保護令?




- (A) 可以,他應該向地方法院聲請
- (B) 可以,他應該向警察局報案
- (C) 不可以,因為父親的要求符合平權觀念
- (D) 不可以,因為這是父母親權的行使

20. 下表是某國全國戶口及住宅普查的部分摘要結果。根據內容判斷,為因應此種趨勢,政府最應重視下列哪方面的政策規劃?

項目	2000年	2010年	2018年
出生登記人數(人)	361,478	301,378	241,487
總結婚登記對數(對)	180,632	153,479	108,123
65歲以上老年人口比率(%)	7.80	11.23	16.78
大專以上教育程度人口比率(%)	23.83	30.73	34.79

- (A) 推動長期照顧計畫
- (B) 提高國民教育水準
- (C) 提供弱勢家庭經濟補助
- (D) 開設新住民生活適應班

21. 老師上課談「建立家庭平權」,將班上同學分組,請各組先行討論「家庭暴力」的相關議題,然後做成小組結論,再上台報告。下列是某組討論的部分內容,其中哪位同學的觀念較為正確?



(A) 湘怡 (B) 孟帆 (C) 菱娟 (D) 毅鈞

候選人在政見發表會中提供兩份資料，分別為資料一和資料二。


資料一：

年別	0-14歲	15-64歲	65歲以上	總人數
2017	331萬人	1724萬人	319萬人	2374萬人
2027	276萬人	1567萬人	506萬人	2349萬人
2037	206萬人	1395萬人	644萬人	2245萬人
2047	156萬人	1165萬人	734萬人	2055萬人
2057	133萬人	953萬人	725萬人	1811萬人

資料二：

近年來，臺灣的人口出現右圖的變化。因此，部分工業早在十年前就開始啟動自動化生產模式，導入智慧生產設備，解決人力不足的問題。但這同時也顯示出我國各產業正面臨勞動力不足的議題。

22. 請問下列哪一張圖示所呈現的家庭類型比例，會對資料一中面臨的議題影響最為嚴重？



註：單人家庭：指該戶僅一人居住

23. 總統大選將至，針對資料二所面臨的議題，各候選人分別提出相關政見。請問：何者的政見最能對症下藥解決問題？

- (A) 維尼：增加職業訓練與工作媒合措施
- (B) 瑞比：第二代長期照護納入健保補貼
- (C) 屹耳：推動一例一休勞動政策防過勞
- (D) 小豬：積極推動準公共化的托育補貼

樂樂的爺爺堅持要住在老家，不肯搬來與他們一家人同住，樂樂對爺爺日常起居很是擔心，英傑告訴他不妨參考一下「青銀共居」的方式，也許可以解決他的困擾。

「青銀共居」可以媒合擁有房產的獨居老人，以及正在讀大學或剛出社會的青年，透過面談及條件審核，讓青年每個月用低於市價的租金，與老人同住。不但幫老人找到聊天陪伴對象，也讓青年在有限經濟條件下，找到合適的住房。

24. 請依上文敘述，分析與其相關的家庭功能，下列何者為是？

- (A) 此種方式有效解決了現代家庭少子化的生育功能
- (B) 此種方式可達成老人影響青年價值觀的教育功能
- (C) 此種方式解決樂樂擔心爺爺日常起居的經濟功能
- (D) 此種方式讓青年盡到陪伴老人的保護與照顧功能。

25. 文中的青銀共居方式與下列哪個政策面臨相同的問題？

- (A) 提高生育、托育補助
- (B) 建立長期照護系統(備註1)
- (C) 增加多元入學管道
- (D) 適時興建社會住宅(備註2)

備註：

1. 長期照護：對身心失能生活無法自理須依賴他人者，提供醫療照顧、個人照顧和社會性服務。
2. 社會住宅：是指政府興建，或民間擁有之合於標準的房屋，以低於市場租金或免費出租給所得較低的家戶。